



আলোকিত হৃদয় স্কুল, মির্জাপুর, টাঙ্গাইল

ওয়ার্কবুক

১ম শ্রেণী

সূচীপত্র

ভূমিকা	ii - vi
তুলনা করি	২
গননা করি	৪
সংখ্যা	৫
জোড়ায় সাজানো	৬
শূন্য	৭
যোগের ধারণা	৯
বিয়োগের ধারণা	১১
যোগ ও বিয়োগ	১৪
সংখ্যা (১১-২০)	১৬
আরো যোগ	১৭
আরো বিয়োগ	১৮
সংখ্যা	১৯
মুদ্রা	২০
জ্যামিতিক আকৃতি	২১

আলোকিত হৃদয় ফাউন্ডেশন

প্রথম প্রকাশঃ ২০১৮

পরিকল্পনা ও রচনাঃ

জাকারিয়া পরাগ মাহফুজ

শাহনেওয়াজ অয়ন

সম্পাদনা ও নির্দেশনাঃ


সৈয়দা তাসনিমা

আজওয়া নাসিম


তুলনা করি

নিচের জিনিসগুলো তুলনা করে দেখি। কম হলে কম আর বেশি হলে বেশি লিখি

ক) _____



খ) _____



গ) _____



ঘ) _____





ঙ) _____












গণনা করি

নিচের মার্বেল গুলো গুণে বের করি কতগুলো মার্বেল আছে এবং বক্স করা অংশতে লিখি



সংখ্যা (১থেকে১০)

নিচের আঙুল গুলো সংখ্যার সাথে মিলাই

		১
		২
		৩
		৪
		৫
		৬
		৭
		৮
		৯
		১০


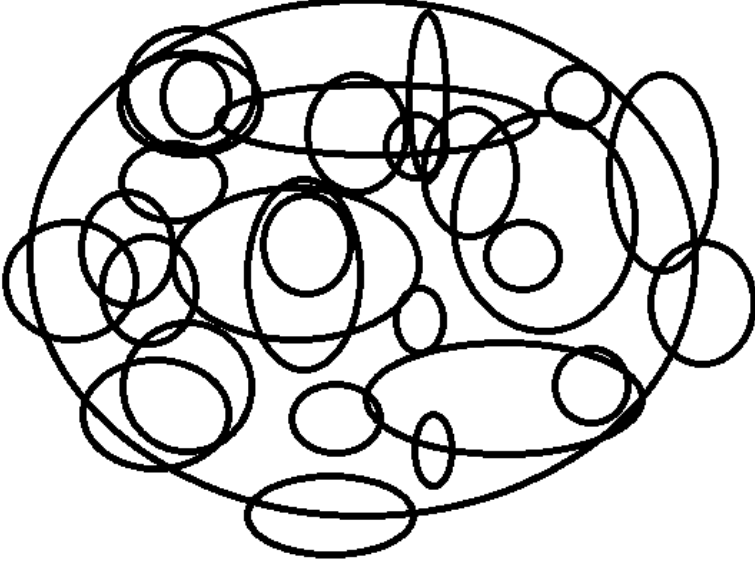
জোড়ায় সাজানো

নিচের ছবিগুলো কেটে আলাদা আলাদা করে বর ও কনেকে জোড়া দেই (পরিবারের বড় কারো সাহায্য আবশ্যিক (ছবি কাটার জন্য))



শূন্য

বুদ্ধি খাটিয়ে এখানে থেকে শূন্য বের করো



প্রতিটি ২টি শূন্য দিয়ে একটি করে নতুন সংখ্যা তৈরি কর ও কার্টুন তৈরি কর



ক্রমের ধারণা

নিচের লোকগুলোকে ব্রিজ পার করাও। তবে সমস্যা হচ্ছে এদের সিরিয়াল দিয়ে পার করাতে হবে। যার নাম্বার কম সে আগে যাবে এরপর এভাবে করে যাবে



১০

৮

২

৫

যোগের ধারণা

নিচে চকলেট আছে দুইজনের কাছে বিভিন্নভাবেযোগ করে বলো কতগুলো করে চকলেট আছে দুইজনের কাছে



ক)

খ)



গ)



ঘ)



ঙ)



বিয়োগের ধারণা

আপেলের ঝুড়ি থেকে বিভিন্নভাবে আপেল সরানো হলো। বলতে পারবে প্রতি ক্ষেত্রে কতগুলো আপেল বাঁচল

ক)



৬

খ)




৪

গ)



৯



ঘ)




৪



ঙ)



6



যোগ ও বিয়োগ

নিচের মার্বেলগুলো হিসাব করে বলি কতগুলো মার্বেল আছে

ক)



খ)



গ)



ঘ)













ঙ)



সংখ্যা(১১ থেকে ২০)

নিচের মার্বেলগুলো গুনে মিলাই

১১	
১২	
১৩	
১৪	
১৫	
১৬	
১৭	
১৮	
১৯	
২০	

যোগ

নিচের যোগগুলো করি

ক) $১২+৩$

খ) $১৫+১$

গ) $১৪+২$

ঘ) $১১+১+৫$

ঙ) $১২+১+১$

বিয়োগ

নিচের সংখ্যাগুলো বিয়োগ করি

ক) ১৫-৫

খ) ১১-২

গ) ১৮-৯

ঘ) ২০-৫

ঙ) ১২-৭

সংখ্যা(২১ থেকে ৫০)

২১ থেকে ৫০ সংখ্যাগুলো মার্বেল এর মাধ্যমে দেখাই

ক্রমবাচক সংখ্যা

নিচের লোকগুলোকে সংখ্যা অনুযায়ী ক্রম দিয়ে ব্রিজ পার করাও



1 3 2 6 4 5



বাংলাদেশী মুদ্রা ও নোট

নিচের টাকাগুলো ভাঙানোর চেষ্টা করি(দেশীয় নোট ১,২,৫,১০,২০,৫০ টাকা দিয়ে)

ক)২৪

খ)৩৯

গ)২৮

ঘ)১২

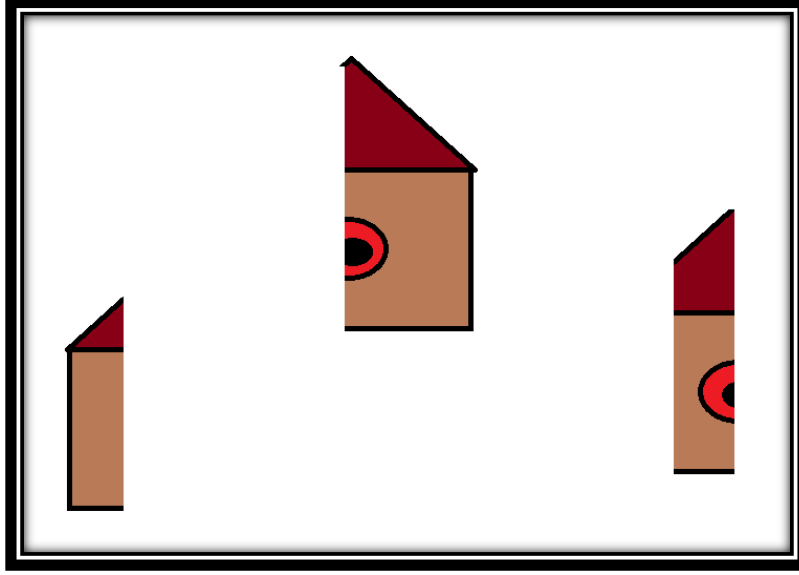
ঙ)৪৬

যোগ ও বিয়োগ(২১ থেকে ৫০)

তোমার বাড়িতে ৩০ টা আম গাছ,১০ টা লিচু গাছ,৪ টা জাম গাছ আছে।প্রতি গাছ থেকে ১ টি করে ফল পাওয়া গেলেও এবার সব গাছ থেকে অর্ধেক (আম থেকে ১৫ টা কম,লিচু থেকে ৫ টা আর জাম থেকে ২ টা)করে ফল পাওয়া গিয়েছে।বলতে পারবে আগের থেকে মোট কতগুলো ফল কম পাওয়া গেলো?

জ্যামিতিক আকৃতি

নিচের তিনটুকরো এক করে বস্তু জোড়া লাগিয়ে বলো কী কী আকার দেখতে পাচ্ছে



নিজে করি (পরিবারের কারো সাহায্য নিতে পারো)

- ১। বাহিরে একই জিনিসগুলো গণনা করি
- ২। জোড়া জিনিসগুলো এক করি
- ৩। বিভিন্ন ছোট ছোট বাজারের হিসাবগুলো করি
- ৪। টাকা দেখে চিনি
- ৫। বিভিন্ন জিনিস দেখে আকার বের করার চেষ্টা করি