



আলোকিত হৃদয় স্কুল, মির্জাপুর, টাঙ্গাইল

ওয়ার্কবুক

গণিত

২য় শ্রেণী

| | |
|--------------------|----|
| | |
| সংখ্যা | ৩ |
| যোগ বিয়োগ সম্পর্ক | ৪ |
| গুণ | ৭ |
| ভাগ | ৯ |
| বাংলাদেশি মুদ্রা | ১০ |
| ভগ্নাংশ | ১১ |
| পরিমাপ | ১২ |
| জ্যামিতিক আকার | ১৩ |

আলোকিত হৃদয়
ফাউন্ডেশন

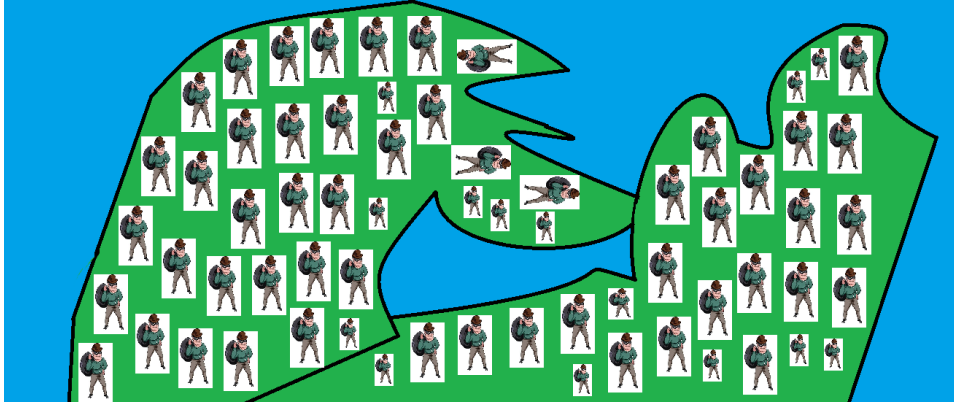
প্রথম প্রকাশ: ২০১৮

পরিকল্পনা ও রচনা:
জাকারিয়া পরাগ মাহফুজ
শাহনেওয়াজ অয়ন

সম্পাদনা ও নির্দেশনা:
সৈয়দা তাসনিমা
আজওয়া নাসিম

সংখ্যা

নিচের ছবিতে কতগুলো চোর আছে?




৬৫ টা চকলেটের সাথে নিচের গুলা যোগ হলে কতটি হবে?





১১ জন ৩ টি করে মাছ ধরল আর ১২ টি মাছ খেয়ে ফেলল, তাহলে কতটি মাছ থাকল?






যোগ বিয়োগের সম্পর্ক

তিনটি কাগজের অঙ্ক সমাধান করতে পারলে, পরের অধ্যায়ের রাস্তা খুঁজে পাবে।

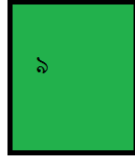



গুণ করি


ক)





খ)





গ)



ସ)





ଓ)



ভাগ

প্রতিটি ঝড়িতে সমান সংখ্যক আম আছে। মোট ৪৫ টি আম থাকলে বলতে হবে প্রতিটি ঝড়িতে কতটি আম আছে?



৭২ টাকায় নিচের চকলেট কতগুলো কিনা যাবে?



বাংলাদেশী মুদ্রা ও নোট

নিচের টাকাগুলো ২ টাকা অথবা ৫ টাকার নোটে ভাগানোর চেষ্টা করি

ক) ৯০ট

খ) ৬৫ট



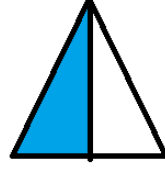
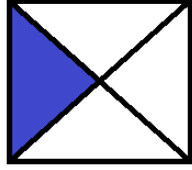
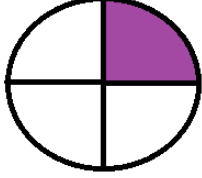
গ) ৩৪ট

ঘ) ৭৮ট

ঙ) ৩২ট

ভগ্নাংশ

ছবি দেখে ভগ্নাংশগুলো বলি ও লিখি



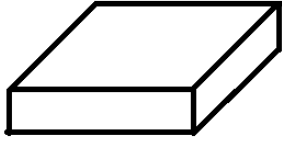
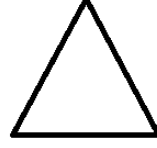

A large empty rectangular box for writing the answers to the fraction identification task.

পরিমাপ

তোমার পানির বোতলের উচ্চতা,ওজন ও কতটুকু পানি ধরে তা পরিমাপ করে লিখো(বলে রাখা ভালো তোমার পানি বোতল পরিপূর্ণ করে সেটা ওজন করলে তাকে লিটারে প্রকাশ করলে পানি ধারণ পরিমাপ পেয়ে যাবে)।পরিমাপ করতে কতক্ষণ সময় লাগলো লিখো।

জ্যামিতিক আকার

নিচের আকারগুলো নাম নিচে নিচে লিখো



A large empty rectangular box provided for writing the names of the shapes shown above.

নিজে করি(পরিবারের সাহায্য আবশ্যিক)

১। বাহিরে একই জিনিসগুলো গণনা করি

২। বাজারের বিভিন্ন হিসাবে সাহায্য করি

৩। বিভিন্ন আকার চিনার চেষ্টা করি